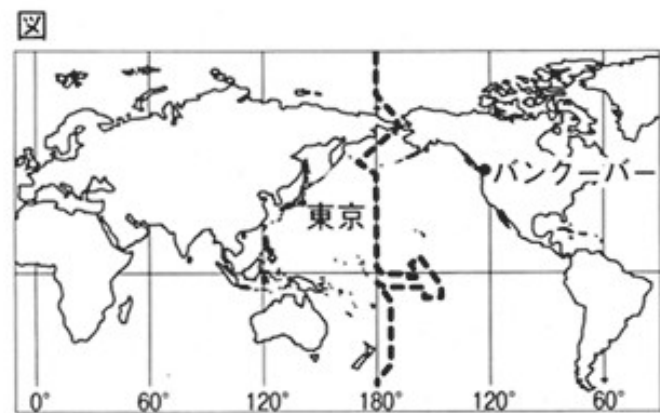


1 次の文は、先生と生徒たちが、「情報の発達と私たちの暮らし」について話し合ったときの会話の一部である。これを読んで、後の(1)~(5)の問いに答えなさい。

先生：皆さんは日ごろ、知りたい情報をどうやって手に入れていますか。
 秋雄：私はテレビから手に入れることが多いです。テレビは情報が早く伝わるだけでなく、わかりやすいと思います。今日は午前3時に起きて、オリンピックの中継を見ました。
 春子：私は新聞を読みます。知らない用語もありますが、じっくり読むことで、多くの情報が整理できるから勉強になります。
 秋雄：新聞は、昔はかわら版として親しまれていたようですが、ほとんどの庶民がまだ文字を読めなかった時代は、どうやって情報を伝達していたのですか。
 先生：読み書きができるようになるまでは、話し言葉が伝達的手段でした。例えば、時代に成立した「平家物語」は、琵琶法師たちによって語り伝えられていました。庶民がかわら版から情報を手に入れられるようになるのは、江戸時代の中期以降です。
 秋雄：かわら版の情報は、庶民の暮らしに役立っていたのですか。
 先生：そうですね。現代の新聞とは比べものにならないくらい少ない情報量ですが、庶民にとっては重要な情報源だったと思います。
 春子：最近では、インターネットが普及して情報源の1つになっています。情報の入手だけでなく情報の発信もできるので、とても便利です。
 先生：情報に関しては、技術の発達とともに法制度の整備も進められています。今後は、使う人の意識を高めることが重要です。特に、個人情報を慎重に管理する必要があります。

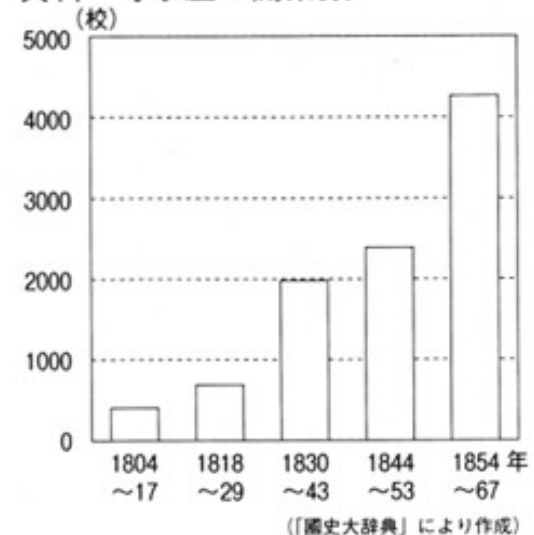
(1) 次の①、②の問いに答えなさい。

- ① 図中-----を何というか、書きなさい。
 - ② 下線部(a)について、東京が2月24日の午前3時であるときの、バンクーバーの日時を、次のア~エから選びなさい。
- ア 23日の午前10時 イ 23日の午後8時
 ウ 24日の午前10時 エ 24日の午後8時



- (2) に当てはまる語を書きなさい。
 - (3) 下線部(b)について、その理由として考えられることを、資料を参考にして、簡潔に書きなさい。
 - (4) 下線部(c)に関して、情報公開制度の対象となる情報を、次のア~エから選びなさい。
- ア 病院などの医療機関が保有する情報
 イ 株式会社などの民間企業が保有する情報
 ウ 地方公共団体などの行政機関が保有する情報
 エ 新聞社やテレビ局などの報道機関が保有する情報
- (5) 下線部(d)に関して、その理由を「権利」という語を用いて、簡潔に書きなさい。

資料 寺子屋の開業数



2 優太さんは、夏休みに長野県岡谷市にある祖父の家を訪ねた際に、地域調査を行った。優太さんが収集した図I、図IIと資料I～資料IIIを見て、後の(1)～(5)の問いに答えなさい。

図I 岡谷市西部の地図



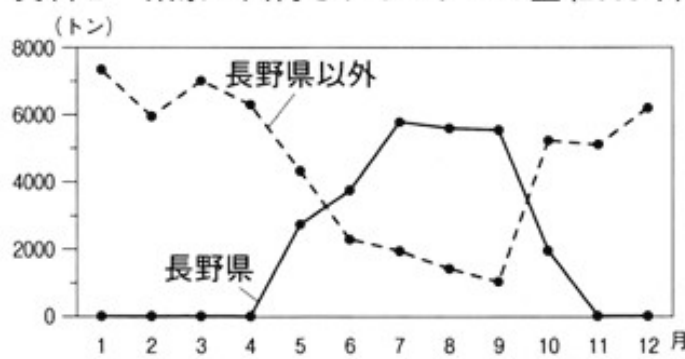
(国土地理院 2万5千分の1地形図「諏訪」の一部 1997年発行)

図II 祖父の家周辺の古い地図



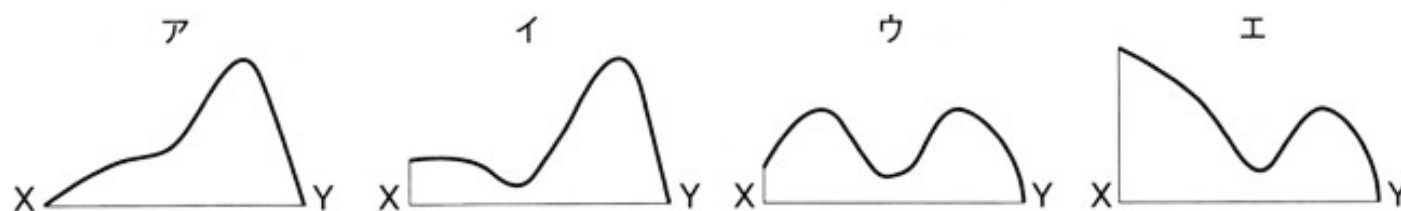
(国土地理院 2万5千分の1地形図「諏訪」の一部 1935年発行)

資料I 東京へ出荷されるレタスの量(2008年)



(東京都中央卸売市場資料により作成)

- 図Iで、「おかや」駅から祖父の家まで地図上では約8cmである。実際の距離はおよそ何kmになるか、書きなさい。また、祖父の家から見える図中の高尾山頂の方位を書きなさい。
- 図Iで、X-Yに沿って切った断面の模式図として適切なものを、次のア～エから選びなさい。



- 岡谷市では、かつて製糸業が全国有数の生産をあげていたが、今は少なくなった。このことともなう土地利用の変化を、図I、図IIから読み取り、具体的に書きなさい。
- 諏訪地方の八ヶ岳山ろくでは、レタスの生産が盛んである。資料Iからわかる、長野県におけるレタスの生産の特色を、自然条件に着目して、簡潔に書きなさい。

資料II 諏訪地方における工業出荷額の内訳



(経済産業省「工業統計調査」により作成)

資料III 諏訪地方から海外へ出た工場数

	1970年代	1980年代	1990年代	2000年～
工場数	15	79	105	113

(諏訪地方事務所「データで見る諏訪地方2009年」により作成)

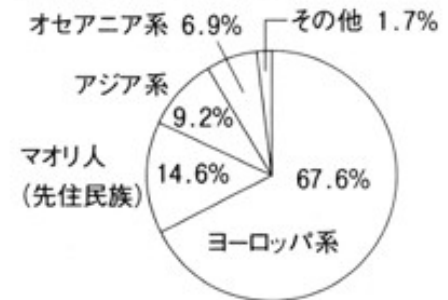
- 諏訪地方における工業について、資料IIからどのような変化が読み取れるか、書きなさい。また、その理由として考えられることを、資料IIIを参考にして、簡潔に書きなさい。

3 雪絵さんは、ニュージーランドについて調べたことをまとめ、発表した。次の資料Ⅰ～資料Ⅵは、そのときに使用したものの一部である。後の(1)～(5)の問いに答えなさい。

資料Ⅰ

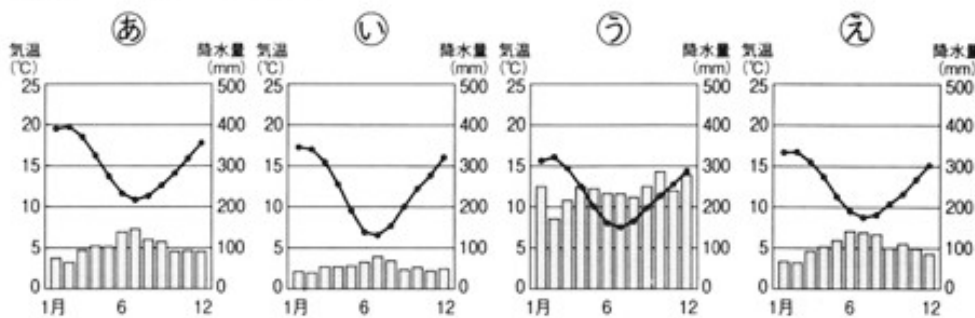
国土	・オセアニア州に属している。 ・面積は <input type="text" value="A"/> で、日本の約70%である。 ・南島を高くてけわしいサザンアルプス山脈が縦断している。
人口と宗教	・人口は約420万人で、日本の約3%である。 ・イギリスの植民地であった歴史があり、 <input type="text" value="B"/> を信仰する人が、人口の約56%を占める。
気候	・国土のほとんどが温帯に属している。 ・ <u>同じ風向きの風が一年を通して吹くため、 (a) 気温や降水量の (b) 変化が日本より少ない。</u>
農業と貿易	・酪農や牧畜(畜産)が盛んで、牛や羊の飼育頭数が多い。 ・人口の9倍以上の羊を飼育している。 ・ <u>輸出において農産物の占める割合が高い。</u> (c)

資料Ⅱ 民族の構成



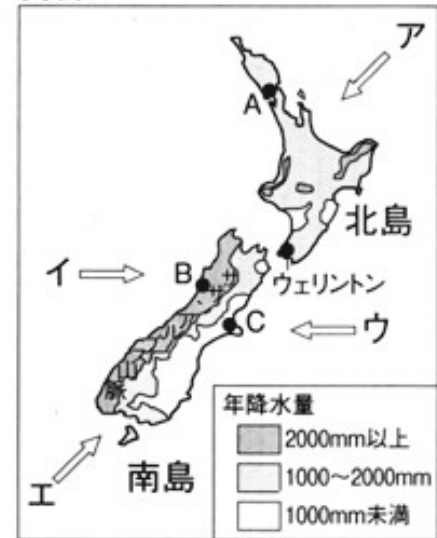
(「データブック オブ・ザ・ワールド2009」により作成)

資料Ⅳ 気温と降水量



(資料Ⅲ、資料Ⅳは「データブック オブ・ザ・ワールド2009」により作成)

資料Ⅲ



(1) 資料Ⅰの に当てはまるおよその面積を、次のア～エから選びなさい。

- ア 約22万 km² イ 約27万 km²
- ウ 約32万 km² エ 約37万 km²

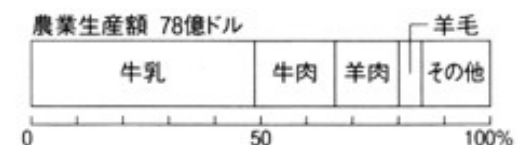
(2) 資料Ⅰの に当てはまる宗教名を、資料Ⅱを参考に、して書きなさい。

(3) 下線部(a)について、風向きとして最も適切なものを、資料Ⅲのア～エから選びなさい。

(4) 下線部(b)について、資料Ⅳの㉠～㉢は、資料Ⅲの●で示したA～Cの都市とウェリントンのいずれかのものである。ウェリントンのものはどれか、㉠～㉢から選びなさい。また、選んだ理由を簡潔に書きなさい。

(5) 下線部(c)に関して、ニュージーランドの農業の特色を、資料Ⅴ、資料Ⅵから読み取り、簡潔に書きなさい。

資料Ⅴ 農業生産に関する資料(2003年)



※牛乳の国内生産量(年間)…14,349,000トン
※牛乳の国内消費量(年間)…192,229トン
(国連食糧農業機関資料により作成)

資料Ⅵ 輸出に関する資料(2003年)



(国連食糧農業機関資料により作成)

4 理恵さんは、各時代の特徴的なできごとを、政治・社会・文化の3つの視点からメモにまとめた。下に示したものはその一部である。後の(1)~(6)の問いに答えなさい。

《弥生時代》

【政治】
の女王卑弥呼が魏に使いを送る。

【社会】
 身分のちがいが生まれる。

【文化】
 鉄器・青銅器が大陸から伝わる。
(a)

《平安時代》

【政治】
 藤原氏が摂政・関白となって、政治を行う。

【社会】
 世の中が乱れるなか、浄土信仰が流行する。
(b)

【文化】
 遣唐使が停止され、国風の文化が生まれる。

《室町時代》

【政治】
, 政治を行う。

【社会】
 村ごとに惣とよばれる自治組織がつけられる。

【文化】
 武士の文化と貴族の文化の融合が進む。

《江戸時代》

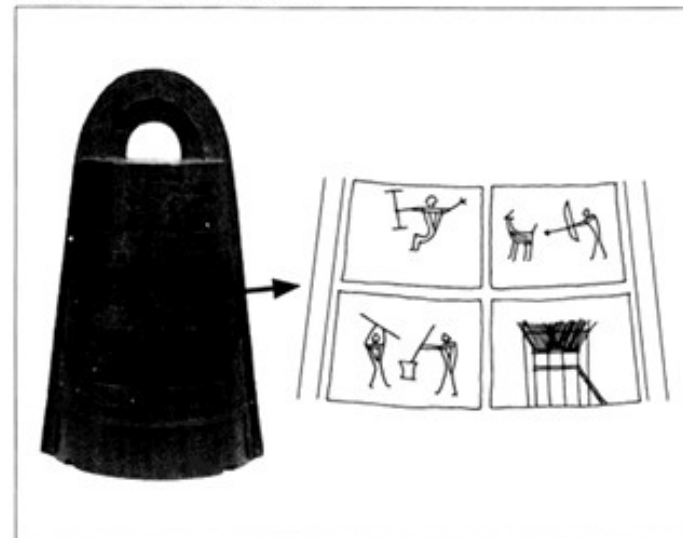
【政治】
幕府が大名に参勤交代を義務付ける。
(c)

【社会】
 貨幣経済が発達し、商人の力が大きくなる。

【文化】
 大阪や江戸の町人を中心に文化が栄える。
(d)

- (1) に当てはまる語を書きなさい。
- (2) 下線部(a)に関して、資料Ⅰの銅鐸には、当時の生活の様子が示されている。縄文時代と比較して、どのような変化が起こったと考えられるか、簡潔に書きなさい。
- (3) 下線部(b)について、この信仰はどのようなものか、「阿弥陀仏」という語を用いて、簡潔に書きなさい。
- (4) に当てはまる政治の特色を、次のア～エから選びなさい。

資料Ⅰ 銅鐸の様相



- ア 執権が将軍を補佐して
- イ 上皇が貴族を利用して
- ウ 将軍が守護大名と協力して
- エ 天皇が有力豪族と連携して

- (5) 下線部(c)について、幕府のねらいは何か、資料Ⅱからわかることを、簡潔に書きなさい。
- (6) 下線部(d)に関して、資料Ⅲと同じ錦絵を大量につくることができるようになった理由を、簡潔に書きなさい。

資料Ⅱ 佐賀藩の支出 (1665年)

藩支出の内訳	費用
参勤交代の旅費	約11億3280万円
江戸での経費	約17億5548万円
国元での経費	約2億1336万円
計	約31億164万円

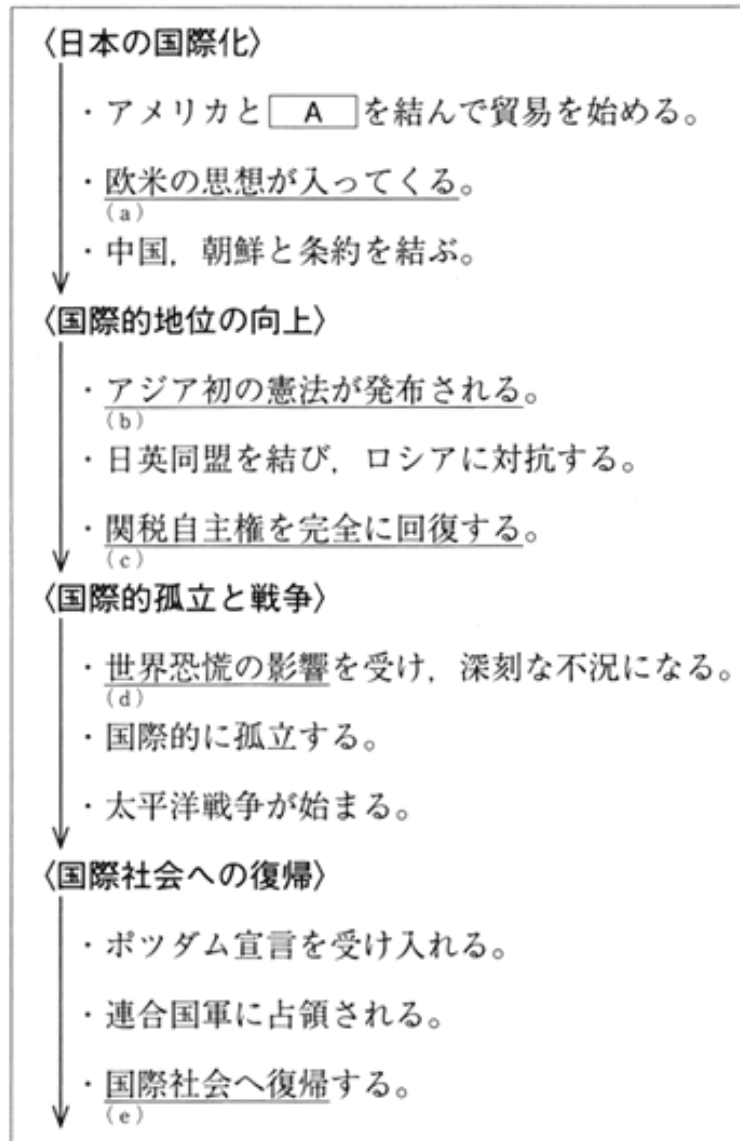
※1両=約12万円で換算
(「図説日本史」により作成)

資料Ⅲ



5 幸雄さんは、「日本と諸外国とのかかわり」というテーマで調べたことをまとめ、発表した。次の資料Ⅰ～資料Ⅳは、そのときに使用したものの一部である。後の(1)～(6)の問いに答えなさい。

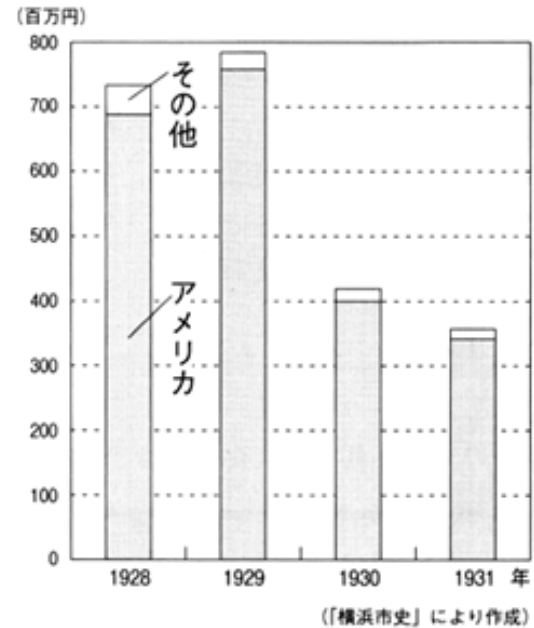
資料Ⅰ



資料Ⅱ 中江兆民の『民約訳解』

もともと自由権は、わたしがひとりだちしうるように、天から与えられたものである。
(部分要約)

資料Ⅲ 日本の生糸の輸出額と相手国



資料Ⅳ 日ソ共同宣言

ソビエト社会主義共和国連邦は、 への加入に関する日本国の申請を支持するものとする。
(一部抜粋)

- (1) に当てはまる条約名を書きなさい。
- (2) 下線部(a)に関して、資料Ⅱは欧米の思想を日本に紹介したものの1つである。資料Ⅱの思想に影響を受けて起こった運動を、次のア～エから選びなさい。
ア 男子の普通選挙実施を求める運動
イ 労働者の地位の向上を求める運動
ウ 植民地支配からの独立を求める運動
エ 国会の開設と国民の政治参加を求める運動
- (3) 下線部(b)に関して、この憲法の草案が、ドイツの憲法を参考にして作成された理由を、簡潔に書きなさい。
- (4) 下線部(c)について、関税自主権を回復する前の日本では、関税率を自主的に決めることができなかった。このことにより国内産業は、どのような影響を受けていたか、簡潔に書きなさい。
- (5) 下線部(d)について、日本の生糸産業が受けた影響とその理由を、資料Ⅲを参考にして、それぞれ簡潔に書きなさい。
- (6) 下線部(e)に関して、日本は資料Ⅳに示した日ソ共同宣言が成立したのち、国際社会への復帰を果たすことができた。 に当てはまる語を書きなさい。

6 次の文は、「企業の活動」について調べた孝平さんが、食品製造会社で聞き取り調査をしたときの会話の一部である。後の(1)～(5)の問いに答えなさい。

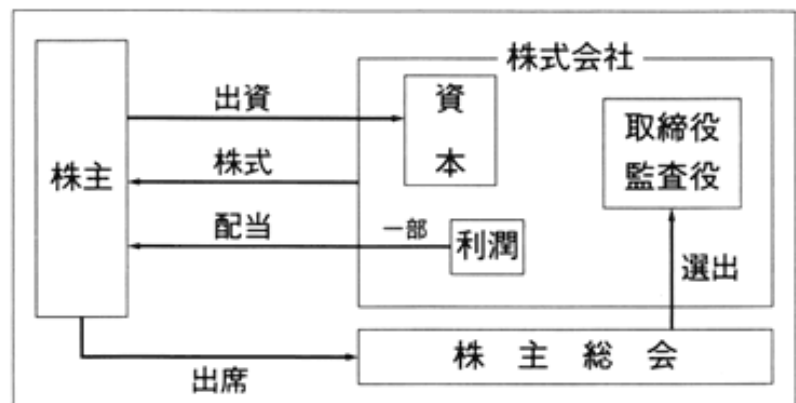
孝平：まず、製品づくりで大切な点を教えてください。
 担当者：私の会社は、食品を扱っているので製品の安全や品質には気を付けています。会社には消費者に対する責任があるからです。また、良いものをより安く提供するために、利潤の一部を設備投資にまわして、商品を効率的に製造することも大切です。ただし、私の会社は株式会社ですので、利潤を追求することで株主の権利を守ることも大切です。
 孝平：製品づくりにかかわって、いろいろと大切なことがあるのですね。次に、製品づくり以外の取り組みを教えてください。
 担当者：私の会社では、を果たす取り組みとして清掃活動や文化を支援する活動などを行っています。また、循環型社会の実現を目指した活動にも、積極的に取り組んでいます。
 孝平：企業の活動には、様々な取り組みがあるのですね。

- (1) に当てはまる語を書きなさい。
- (2) 下線部(a)について、製品に資料Ⅰのような表示をすることで、企業はどのような責任を果たしているか、簡潔に書きなさい。
- (3) 下線部(b)について、設備投資に当たるものを、次のア～エから選びなさい。
 ア 従業員を増やす
 イ 機械を新しくする
 ウ 商品の宣伝をする
 エ 原材料の品質を上げる
- (4) 下線部(c)について、会社が株式を発行する利点と、株式を購入した株主の権利を、資料Ⅱを参考にして、それぞれ簡潔に書きなさい。
- (5) 下線部(d)について、孝平さんは、資料Ⅲを作成した。資料Ⅲに示した「不要になったものの分別」は、循環型社会をつくる上で様々な利点がある。環境保護の視点から、どのような利点があるか、資料Ⅲからわかることを、簡潔に書きなさい。

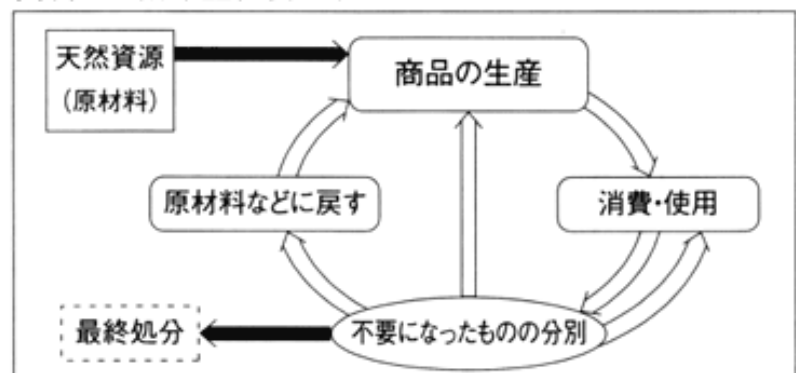
資料Ⅰ 製品の表示

種 類 別	プロセスチーズ
原材料名	ナチュラルチーズ、ホワイトパウダー、乳化剤、pH調整剤
賞味期限	枠外右側に記載
保存方法	10℃以下で保存
製 造 者	〇〇株式会社 〇県〇市〇町1-2

資料Ⅱ 株式会社のしくみ



資料Ⅲ 循環型社会のすがた



社会 (平成22)

大問 (配点)	正 答							
1	(1)	①	日付変更線	②	ア	(2) 鎌倉		
	(3)	(例) 寺子屋が増え、庶民の多くが文字を読めるようになったから。						
(12)	(4)	ウ	(5)	(例) プライバシーの権利を守るため。				
2	(1)	2 km	北西	(2)	エ	(3) (例) 桑畑が住宅地が変わった。		
	(4)	(例) 高地の冷涼な気候を利用して、他地域と出荷時期をずらして生産している。						
(16)	(5)	(例) 精密機器の出荷額が減少した。		(例) 精密機器の工場が海外へ移転したから。				
3	(1)	イ	(2)	キリスト教	(3)	イ		
	(4)	え	(例) 年降水量が1000mm程度で、高緯度ほど気温が低いから。					
(15)	(5)	(例) 輸出を目的として、主に牛乳や肉類の生産を行っている。						
4	(1)	邪馬台国		(2)	(例) 狩りや漁の生活から、稲作中心の生活へ変わった。			
	(3)	(例) 阿弥陀仏にすがれば、極楽浄土へ行けるという信仰。				(4)	ウ	
(15)	(5)	(例) 藩の支出を増やし、大名の力を抑えるため。			(6)	(例) 木版画の技術が広まったため。		
5	(1)	日米修好通商条約		(2)	エ	(3) (例) ドイツの憲法は、君主権が強かったから。		
	(4)	(例) 輸入品が安く出回り、国内産業が打撃を受けた。						
(15)	(5)	(例) 輸出額が減少した。		(例) 主な輸出国のアメリカが不況になったから。		(6)	国際連合	
6	(1)	社会的責任		(2)	(例) 消費者に正確な情報を提供する。		(3)	イ
	(4)	(例) 多くの資本を集めることができる。		(例) 利潤の一部を配当金として受けとる権利。				
(13)	(5)	(例) 資源の再利用や再使用によって、天然資源の消費を抑えることができる。						
7	(1)	①	(例) 首相は国民の代表者によって選ばれ、首長は住民から直接選ばれる。			(2)	イ	
	(2)	A	3000	B	市長(首長)			
(14)	(3)	①	(例) 階段の利用が困難な人のために、スロープが設置されている。			(2)	バリアフリー	
	(4)	(例) 地方が自由に使える自主財源を増やすための工夫をする						